

مراجعة ليلة الامتحان (الصف السادس الابتدائي)

النموذج ١

أولاً : اللغة العربية

اختر الإجابة الصحيحة مما بين القوسين :

- ١ على الإنسان ألا للعقبات .
 ٢ الناجح لا يتردد في اتخاذ القرار :
 ٣ أمر الله تعالى الأبناء ب الوالدين وطاعتهما .
 ٤ من يخالف أمر الله يكن مصيره :
 ٥ كثر عدد أسرة مبارك حتى قاربوا :
 ٦ أحبَّ عرب السماعنة الشيخ مباركًا ، وبنوا له :
 ٧ (الصدق من صفات المؤمنين) ، نوع الخبر :
 ٨ (دافع الجندي عن وطنه دفاعًا عظيمًا) ، « دفاعًا » منصوبة ؛ لأنها :
 ٩ (مفعول مطلق - مفعول لأجله)
 ١٠ (البيئة - البيأة - البيابة)
 ١١ (سئل - سأل - مسئول)
 ١٢ (يتصدى - يستسلم - يفرح)
 ١٣ (الصائب - الخطأ - السلبي)
 ١٤ (عصيان - برّ - إغضاب)
 ١٥ (الهلاك - الجنة - رضا الله)
 ١٦ (المائتين - المائة - الخمسين)
 ١٧ (بيتًا - مسجدًا - كتابًا)
 ١٨ (مفرد - جملة اسمية - شبه جملة)
 ١٩ (موجب الحفظ على من التلوث .
 ٢٠ الأب ابنه عن نتيجة المباراة .

ثانيًا : الرياضيات

اختر الإجابة الصحيحة مما بين القوسين :

- ١ الزوايا الأربعة قائمة في :
 ٢ $\frac{5}{س} = \frac{1}{6}$ ؛ فإن س =
 ٣ أكبر قيمة - أصغر قيمة = (المدى ، طول المجموعة ، مركز المجموعة ، عدد المجموعات)
 ٤ إذا كانت س نصف ص ، ص ضعف ع ؛ فإن س : ع =
 ٥ $\frac{1}{4} = \frac{.....}{25}$.
 ٦ سيارة تستهلك ٣٠ لترًا من البنزين لتقطع مسافة ٢١٠ كم ، فإن عدد اللترات التي تستهلكها السيارة لتقطع مسافة ٤٢٠ كم = لترًا .
 ٧ إذا كان حجم متوازي المستطيلات ١٦٨٠ سم^٣ وأبعاد القاعدة ١٤ سم ، ١٥ سم ؛ فإن الارتفاع = سم .

١ مراجعة ليلة الامتحان

تابع جديد زاكروولي على موقعنا
<https://www.zakrooly.com>

ثالثًا: الدراسات الاجتماعية

اختر الإجابة الصحيحة مما بين القوسين :

١ تُعد آثار « تل بسطة » من المعالم السياحية لمحافظة :

(الفيوم - الشرقية - كفر الشيخ - بني سويف)

(الكيمائية - الهندسية - المعدنية - البسيطة)

(المماليك - المصريين - الأتراك - البرتغاليين)

(السويس - بورسعيد - دمياط - الإسكندرية)

ب تعتبر صناعة الألومنيوم من الصناعات :

ج اعتمد العثمانيون في حكم الأقاليم على :

د أنشأ محمد على ترسانة لبناء السفن في :

رابعًا: العلوم

اختر الإجابة الصحيحة مما بين القوسين :

١ النخاع المستطيل مسئول عن :

(التحكم في الحركات الإرادية - المحافظة على توازن الجسم -

تنظيم العمليات اللاإرادية - الأفعال المنعكسة)

ب أي من الغازات التالية يوجد بنسبة أكبر في الهواء ؟ :

(الأكسجين - الأرجون - النيتروجين - ثاني أكسيد الكربون)

ج النيوتن يساوي تقريبًا وزن جسم كتلته جرام .

د يختلف الترمومتر الطبي عن الترمومتر المئوي في :

(نوع المادة الموجودة في المستودع - وجود اختناق في الأنبوبة الشعرية -

نوع المادة المصنوع منها - تأثر حجم السائل الموجود به بتغير درجة الحرارة)

Fifth: English

Choose the correct answer from a, b, c or d:

1 A: "How do you listen to music?" B: "Once a day."

a. many b. much c. often d. old

2 My father medicine twice a day.

a. take b. takes c. taking d. to take

3 My little sister is a She bothers me and my friends.

a. past b. pet c. best d. pest

4 She likes to a speech at school.

a. give b. do c. make d. speak

5 I take medicine a day.

a. two b. twice c. too d. to

الصف السادس الابتدائي - الفصل الدراسي الأول

تابع جديد زاكروولي على موقعنا
www.zakrooly.com

https://www.zakrooly.com

النموذج ٢

أولاً : اللغة العربية

اختر الإجابة الصحيحة مما بين القوسين :

- أ) تُعد مستشفى ٧٥٣٧٥ من أهم مستشفيات علاج سرطان : (الكبار - الأطفال - المُسنين)
- ب) زيارة المريض ترفع من حالته المعنوية وتساعد على : (القراءة - الشفاء - اللعب)
- ج) أحقية الكلام ليست بكبر السن وإنما بـ : (الغنى - المال - القدرة على التعبير)
- د) نصح سيدنا نوح ابنه بأن يركب السفينة حتى لا يموت مع الكافرين . (حرقاً - غرقاً - اختناقاً)
- هـ) الشباب الأصحاء قادرون على تحقيق والتقدم لمصر . (النهضة - التأخر - الضعف)
- و) المدرسة التي تخرّج فيها عُنبر أفندي هي : (قصر العينى - الحربية - المصرية)
- ز) عندما دخل على مبارك على عُنبر أفندي وجده يجلس فى : (تواضع - عظمة - تعب)
- ح) إن الحق : (واضحاً - واضح - واضح)
- ط) « هزوا النائمين » تعبير يدعو إلى : (التكاسل والتقاعد - إيقاظ النائمين - النشاط واليقظة)
- ي) الطفل فى حضن أمه . (يطمأن - يطمون - يطمئن)

ثانياً : الرياضيات

اختر الإجابة الصحيحة مما بين القوسين :

- أ) البيانات التالية كمية ماعدا : (اللون المفضل ، الوزن ، العمر ، الطول)
- ب) إذا كان أ : ب : ج = ٤ : ٥ : ١١ ، ب - أ = ٧ ؛ فإن ج = (٤٤٦٧٧٦٢٠٦١٤)
- ج) وحدة قياس السعة هي : (المتر ، السنتمتر ، اللتر ، الجرام)
- د) مقياس الرسم يعبر عن تكبير . (١ : ٣٦١٠ : ١٧٦٢٠ : ١٦٥ : ٥٠)
- هـ) إذا كانت مساحة أحد أوجه المكعب ٨١ سم^٢ ؛ فإن حجمه = سم^٣ . (٧٢٩٦٤٥٦١٨٦٩)
- و) إذا كانت النسبة بين نصيب هانى : شريف : خالد = ٣ : ٥ : ٧ ، وكان نصيب هانى ٢٤ جنيهاً ؛ فإن قيمة الجزء الواحد = (٧ ÷ ٢٤٦٨ ÷ ٢٤٦١٥ ÷ ٢٤٦٣ ÷ ٢٤)
- ز) إذا كان ثمن شراء جهاز ٣٠٠٠٠ جنيه و ثمن البيع ٢٩٢٥٠ جنيهاً ؛ فإن النسبة المئوية للخسارة = % (٤,٥٦٣٦٢,٥٦٥)

مراجعة ليلة الامتحان

تابع جديد زاكروولى على موقعنا
https://www.zakrooly.com

ثالثًا : الدراسات الاجتماعية

اختر الإجابة الصحيحة مما بين القوسين :

- أ) توجد الزراعة المطرية في منطقة :
(وادي النيل - منخفض الفيوم - الساحل الشمالي - واحة الفرافرة)
- ب) تُعد صناعة العطور من الصناعات :
(الهندسية - الكيميائية - الغذائية - المعدنية)
- ج) تولى حكم مصر عام ١٨٦٣م الخديو :
(إسماعيل - عباس - توفيق - سعيد)
- د) أصبحت مصر ولاية عثمانية عام ١٥١٧م بعد معركة :
(مرج دابق - الريدانية - حطين - ديو)

رابعًا : العلوم

اختر الإجابة الصحيحة مما بين القوسين :

- أ) إذا كان وزن جسم على سطح الأرض ٣٦ نيوتن ؛ فإن كتلته تساوي كيلوجرام .
(٣٦٠ - ٣٦ - ٦,٣ - ٣,٦)
- ب) كل مما يلي من خواص الزئبق كمادة ترمومترية ما عدا أنه :
(جيد التوصيل للحرارة - يعطى مدى محدودًا لقياس درجة الحرارة - لا يلتصق بجدران الأنبوبة الشعرية - معدن سائل في درجة حرارة الغرفة)
- ج) يقوم بتنظيم ضربات القلب وتنظيم حركة أعضاء الجهاز التنفسي .
(المخ - النخاع المستطيل - المخيخ - النخاع الشوكي)
- د) عمليات التنفس والاحتراق تستهلك غاز :
(الأكسجين - النيتروجين - ثاني أكسيد الكربون - الأرجون)

Fifth: English

Choose the correct answer from a, b, c or d:

- 1) invented ice cream?
a. What b. When c. Who d. Where
- 2) Where did the first ice cream factory?
a. open b. opened c. opening d. opens
- 3) I'm going to the as I have a toothache.
a. dentist b. supermarket c. grocer d. nurse
- 4) I stayed on Friday as it was a holiday.
a. park b. office c. work d. home
- 5) He to a friend.
a. talked b. did c. wore d. had

الصف السادس الابتدائي - الفصل الدراسي الأول

تابع جديد زاكروولي على موقعنا
www.zakrooly.com

مع تمنيات موقع ذاكرولي التعليمي لكل الطلاب بالنجاح والتوفيق

مراجعة ليلة الامتحان

(الصف السادس الابتدائي)

النموذج ٣

أولاً : اللغة العربية

أ من موضوع « مفتاح النجاح » :

« والسادس : الإصرار ؛ فالناجح لا يتردد في اتخاذ القرار الصائب ، وإنما يمضي قدماً في تنفيذه واثقاً بقدرته على الوصول إلى هدفه » .

تخير الإجابة الصحيحة مما بين القوسين :

- | | |
|----------------------|------------------------------------|
| ① مرادف (الصائب) : | (السريع - الصحيح - الجريء) |
| ② مضاد (يتردد) : | (يستمر - يبصر - يعانى) |
| ③ جمع (القرار) : | (القرارات - الإقرارات - القارات) |
| ④ (هدفه) : | (مفعول به - اسم مجرور - خبر) |

ب من نص « كن قوياً » :

إنما الصحة عنوان الحياة فانشروها نضرة فوق الجباه
وارسموها بسمه فوق الشفاه وابعثوها رحمة للعالمين

تخير الإجابة الصحيحة مما بين القوسين :

- | | |
|-----------------------------|---|
| ① مرادف (نضرة) : | (جمالاً - قبحاً - شجاعة) |
| ② قائل النص : | (أحمد شوقي - محمود غنيم - حافظ إبراهيم) |
| ③ (فوق) : | (ظرف زمان - ظرف مكان - مفعول به) |
| ④ (فانشروها نضرة) أسلوب : | (نداء - تعجب - أمر) |

ج من قصة « على مبارك » :

تخير الإجابة الصحيحة مما بين القوسين :

- | | |
|--|--|
| ① أول شيء اهتم به الشيخ مبارك عندما وصل إلى عرب السماعنة : | (زراعة أرضه - تعليم ابنه - بناء بيت) |
| ② عرف على مبارك أنه سينجو من شر عصا الشيخ إذا حفظ : | (الشعر - الحديث - القرآن) |



ثانيًا : الرياضيات

اختر الإجابة الصحيحة مما بين القوسين :

- أ النسبة بين طول ضلع المربع ومحيطه =
 ب البيانات المقابلة و صفيه ماعدا
 ج فصل به ٥٠ تلميذًا تغيب في أحد الأيام ٣ تلاميذ ، فإن النسبة المئوية للغياب = %
 د إذا كان الطول في الصورة ٣ سم والطول في الحقيقة ٩ أمتار ، فإن مقياس الرسم =
 ه إذا كان حازم يذاكر ٢١ ساعة في الإِسبوع ، فيكون معدل ما يذاكره في اليوم = ساعات / يوم .
 و ٦٥٠٠ ديسم^٣ = م^٣ .
 ز مكعب محيط قاعدته ١٢ سم ، فإن حجمه = سم^٣ .
- (١ : ٨٦٨ : ١٦١ : ٤٦٤ : ١)
 (اللون ، الاسم ، العمر ، فصيلة الدم)
 (١٠٦٩٦٦٦٣)
 (١ : ٣٠٠٦٣٠٠ : ١٦١ : ٣٠٦٣٠ : ١)
 (٢٨٦١٤٧٦٣٦٤)
 (٦٥٠٠٠٦٦٥٦٠ ، ٦٥٦٦ ، ٥)
 (١٢٦٣٦٢٧٦٩)

ثالثًا : الدراسات الاجتماعية

اختر الإجابة الصحيحة مما بين القوسين :

- أ أحد الصناعات الهندسية صناعة :
 ب تُوجد عين السيليين في محافظة :
 ج أصدر محمد علي صحيفة المصرية .
 د قام سليمان الحلبي بقتل القائد الفرنسي :
- (العطور - أجهزة السيارات - حفظ الفاكهة - الألومنيوم)
 (الفيوم - الشرقية - كفر الشيخ - بنى سويف)
 (المؤيد - اللواء - الوقائع - المقطم)
 (مينو - نابليون - كليبر - نلسون)

رابعًا : العلوم

اختر الإجابة الصحيحة مما بين القوسين :

- أ يتكوّن القفص الصدرى فى الإنسان من زوجًا من الضلوع .
 ب جسم كتلته على سطح الأرض ٢٠٠ كجم ، تكون كتلته على سطح القمر كجم .
 ج الاحتراق هو اتحاد المواد مع غاز بسرعة ، وانطلاق ضوء وحرارة .
 د الاسم العلمى لماء الجير هو :
- (١١ - ١٢ - ١٣ - ١٤)
 (٠ ، ٢ - ٢٠٠ - ٢ - ٢٠)
 (النيتروجين - الأكسجين - الهيدروجين - ثانى أكسيد الكربون)
 (كربونات الكالسيوم - أكسيد الكالسيوم - هيدروكسيد الكالسيوم - كربونات الصوديوم)

Fifth: English

Choose the correct answer from a, b, c or d:

- 1 invented ice cream?
 a. What b. When c. Who d. Where
- 2 Where did the first ice cream factory?
 a. open b. opened c. opening d. opens
- 3 I'm going to the as I have a toothache.
 a. dentist b. supermarket c. grocer d. nurse
- 4 I stayed on Friday as it was a holiday.
 a. park b. office c. work d. home
- 5 He to a friend.
 a. talked b. did c. wore d. had

ذات كروولى
 Rania Sayed



مراجعة ليلة الامتحان (الصف السادس الابتدائي)

النموذج E

أولاً : اللغة العربية

١ من موضوع « ذكاء صبي » :

« ولما أفضت الخلافة إلى عمر بن عبد العزيز أتته الوفود ، فإذا فيهم وفد الحجاز ، فنظر عمر إلى غلام صغير السن وقد أراد أن يتكلم ، فقال : ليتكلم من هو أسن منك ؛ فإنه أحق بالكلام » .

اختر الإجابة الصحيحة مما بين القوسين :

- | | |
|----------------------------------|--|
| ١ مرادف (أفضت) : | (انتهت - بعدت - هوت) |
| ٢ مفرد (الوفود) : | (الوفد - الفداء - الفدية) |
| ٣ قال الغلام : فنحن وفد الشكرو : | (الكرم - الشجاعة - السلام) |
| ٤ (المرء بأصغريه) : | (قلبه ولسانه - يده ولسانه - رأسه ولسانه) |
| ٥ (الخلافة) : | (فاعل - مفعول به - خبر) |
| ٦ كلمة (أحق) خبر : | (مفرد - جملة - شبه جملة) |

٢ من نص « الدين المعاملة » :

قال رسول الله ﷺ : « ألا من ظلم معاهداً ، أو انتقصه ، أو كلفه فوق طاقته ، أو أخذ منه شيئاً بغير طيب نفس ، فأنا حجيجه يوم القيامة » .

اختر الإجابة الصحيحة مما بين القوسين :

- | | |
|------------------------|-----------------------------------|
| ١ الدين هو المعاملة : | (الحسننة - السيئة - الظالمة) |
| ٢ المقصود بالمعاهدين : | (المصريون - أهل الكتاب - العرب) |

٣ من قصة « على مبارك » :

اختر الإجابة الصحيحة مما بين القوسين :

- | | |
|---|-----------------------------|
| ١ أعطى كاتب مأمورية أبو كبير على مبارك أجراً قدره قرشاً . | (خمسون - أربعون - ثلاثون) |
| ٢ لم يسجل ناظر مدرسة منية العز علياً حتى يأذن على التحاقه بها . | (جده - أخوه - أبوه) |

مراجعة ليلة الامتحان

تابع جديد زاكروولي على موقعنا
https://www.zakrooly.com

ثانيًا : الرياضيات

اختر الإجابة الصحيحة مما بين القوسين :

- أ) $\frac{1}{3} : \frac{1}{4} = \dots\dots\dots$ (٢ : ٣٦٣ : ١٦٢ : ١٦٢ : ٤)
- ب) إذا كانت النسبة بين عدد البنات وعدد البنين $\frac{3}{5}$ ، وكان عدد البنات يساوي ٢١٠ بنات ؛ فإن عدد البنين = ابناً . (٣٠٠ : ٦٣٥ : ٦٢٥ : ٦٧٠)
- ج) في جدول التوزيع التكراري يكون عدد المجموعات = ÷ طول المجموعة (مركز المجموعة ، المدى ، التكرار ، نهاية المجموعة) (٥٠٠ : ٦٢٧ : ٦١٠ : ٦٢٥)
- د) ٢٥٪ من ١٠٠٠ جنيه = جنيهًا . (٩٦٨ : ٦٥٦ : ٢)
- هـ) إذا كان $\frac{3}{10} = \frac{س}{١٠}$ ؛ فإن س = (٩٦٨ : ٦٥٦ : ٢)
- و) القطران متعامدان في كل من (المعين والمستطيل ، المربع والمعين ، المربع والمستطيل ، المربع والمكعب)
- ز) حجم متوازي المستطيلات الذي أبعاده ١٠٦٥٦٢ سم = سم^٣ . (١٢٠ : ٦١٠ : ٦٩٠ : ٦٧٠)

ثالثًا : الدراسات الاجتماعية

اختر الإجابة الصحيحة مما بين القوسين :

- أ) أحد الصناعات البسيطة . (السجاد اليدوي - حفظ الفاكهة - الأسمدة - الكمبيوتر)
- ب) الإسراف في استخدام مياه الري يؤدي إلى : (تدهور التربة - جودة المحاصيل - التوسع الأفقي - الزحف العمراني)
- ج) اكتشَفَ طريق رأس الرجاء الصالح عام ١٤٩٨ م على يد : (الإنجليز - العثمانيين - الفرنسيين - البرتغاليين)
- د) تولى قيادة الحملة الفرنسية بعد مقتل كليبر . (مينو - نابليون - كليبر - ديوبو)

رابعًا : العلوم

اختر الإجابة الصحيحة مما بين القوسين :

- أ) كل مما يلي من مكونات الجهاز العصبي المركزي ما عدا : (الأعصاب الشوكية - النصفين الكرويين - الحبل الشوكي - النخاع المستطيل)
- ب) عند وضع شريط من الماغنسيوم المشتعل في مخبريحتوى على غاز ثاني أكسيد الكربون ، يتكون على جدران المخبر عنصر : (الماغنسيوم - النيتروجين - الكربون - الأكسجين)
- ج) بداية ونهاية تدرج الترمومتر الطبي : (٣٥ درجة سيليزية إلى ٤٢ درجة سيليزية - ٣٥ درجة سيليزية إلى ٤٥ درجة سيليزية - ٣٢ درجة سيليزية إلى ٤٢ درجة سيليزية - ٣٢ درجة سيليزية إلى ٤٥ درجة سيليزية)
- د) يقاس وزن الأجسام بالميزان : (ذى الكفتين - الزنبركي - الحساس - المؤشر)



Fifth: English

Choose the correct answer from a, b, c or d:

- 1 She a wig.


a. listened	b. wore	c. went	d. talked
-------------	---------	---------	-----------
- 2 We walked to school by

a. ourselves	b. yourselves	c. themselves	d. itself
--------------	---------------	---------------	-----------
- 3 They had three of apple pies.

a. loaves	b. glasses	c. pieces	d. cups
-----------	------------	-----------	---------
- 4 My best is vanilla.

a. flavour	b. kind	c. colour	d. size
------------	---------	-----------	---------
- 5 I buy my things myself.

a. by	b. as	c. with	d. at
-------	-------	---------	-------



مراجعة ليلة الامتحان



تابع جديد زاكروولي على موقعنا
<https://www.zakrooly.com>



مع تمنيات موقع ذاكرولي التعليمي لكل الطلاب بالنجاح والتوفيق

سلاح التلميذ

موقع ذاكرولي التعليمي

الصف السادس الابتدائي

مراجعة ليلة الامتحان (الصف السادس الابتدائي)

النموذج ٥

أولاً : اللغة العربية

أ من موضوع « يوم لا ينسى » :

« وحدثت مفاجأتان .. كانت المفاجأة الرائعة الأولى أن نرى فاطمة ، وقد ارتدت قبعة بيضاء جميلة للغاية .. وكانت المفاجأة الرائعة الثانية أن ترانا فاطمة ، وقد ارتدينا جميعاً قبعات بيضاء مماثلة لقبعتها » .

اختر الإجابة الصحيحة مما بين القوسين :

- ١ (مماثلة) مرادفها : (واضحة - ملونة - مشابهة)
 ٢ (الرائعة) مضادها : (القبيحة - القليلة - الضعيفة)
 ٣ ستأتى فاطمة إلى المدرسة فى صحبة : (والدها - والدتها - أختها)
 ٤ كلمة (مفاجأتان) مرفوعة بـ : (الواو - الياء - الألف)
 ٥ (قبعة) تعرب : (فاعل - خبر - مفعول به)
 ٦ (حدثت) فعل : (ماض - مضارع - أمر)

ب من قصة « على مبارك » :

اختر الإجابة الصحيحة مما بين القوسين :

- ١ كان الكُتَّاب الذى سيتعلم فيه على مبارك فى قرية عن قريته .
 (قريبة - بعيدة - كبيرة)
 ٢ كانت أم (على مبارك) لفراق ابنها .
 (فرحة - حزينة - رافضة)

ج من نص « أخى الإنسان » :

أخى فى العالم الواسع مع فى المغرب والمشرق
 أخى الأبيض والأسود د فى جوهرك المطلق

اختر الإجابة الصحيحة مما بين القوسين :

- ١ (جوهرك) مرادفها : (هينتك - أصلك - وطنك)
 ٢ (الأبيض والأسود) بينهما : (تضاد - ترادف - تعجب)

ثانياً: الرياضيات

اختر الإجابة الصحيحة مما بين القوسين :

- أ) إناء على شكل مكعب طول حرفه ٥٠ سم ، مُلئ بالعسل ، فإن سعته = لتراً .
(١٢٥٠٠٦١٢٥٠٦١٢٥٦١٠٠)
- ب) ٦ ، ٤ لتر = ديسم^٣ .
(٠,٤٦٦٤,٦٦٤٦٠٦٤٦)
- ج) إذا كان ثمن البيع ٣٧٥٠ جنيه والمكسب ٧٥٠ جنيه ، فإن النسبة المئوية للمكسب = %
(٣٣٦٥٠٦٢٠٦٢٥)
- د) في التوزيع (٥ - ١٠٦ - ١٥٦ - ٦) فإن طول المجموعة يساوي
(٢٠٦١٥٦١٠٦٥)
- هـ) مربع طول ضلعه ٤ سم ، ومستطيل بعده ٦ سم ، ٣ سم ، فإن النسبة بين محيط المربع ومحيط المستطيل هي
(٨ : ٦٦٩ : ٨٦٨ : ٩٦٦ : ٩)
- و) ١ - ١٥ % = %
(٨٥٦٦٥٦٥٥٦١٥)
- ز) ينتج مصنع ٥٠٠٠ لمبة كهرباء في ٥ ساعات ، فإن معدل إنتاج اللمبات لكل ساعة هو لمبة / ساعة .
(١١٦١٠٠٠٦١٠٠٦١٠)

ثالثاً: الدراسات الاجتماعية

اختر الإجابة الصحيحة مما بين القوسين :

- أ) نحتاج إلى عدد كبير من العمال في الصناعة : (اليدوية - البسيطة - الحديثة - الهندسية)
- ب) تبدو الدلتا على شكل مثلث كبير قاعدته تطل على :
(البحر المتوسط - البحر الأحمر - قناة السويس - خليج السويس)
- ج) منح امتياز حفر قناة السويس للمهندس ديليسبس من أعمال :
(الخديو إسماعيل باشا - محمد سعيد باشا - عباس باشا الأول - الخديو عباس حلمي)
- د) احتل الفرنسيون الإسكندرية رغم مقاومة أهلها وحاكمها :
(عمر مكرم - الشيخ السادات - عبد الله الشرقاوي - محمد كريمة)

رابعاً: العلوم

اختر الإجابة الصحيحة مما بين القوسين :

- أ) الكوكب الذي يكون عليه وزن الجسم يساوي ٦ أمثال وزنه على القمر هو كوكب :
(المريخ - الأرض - المشتري - عطارد)
- ب) الفكرة الأساسية لعمل الترمومتر هي تغير السائل الموجود به مع تغير درجة الحرارة.
(حجم - كثافة - كتلة - وزن)
- ج) يتصاعد غاز ثاني أكسيد الكربون عند إضافة حمض الهيدروكلوريك المخفف إلى مسحوق :
(كربونات الكالسيوم - هيدروكسيد الكالسيوم - أكسيد الكالسيوم - أكسيد المنجنيز)
- د) من المفاصل محدودة الحركة :
(الكتف - المعصم - الفخذ - الكوع)

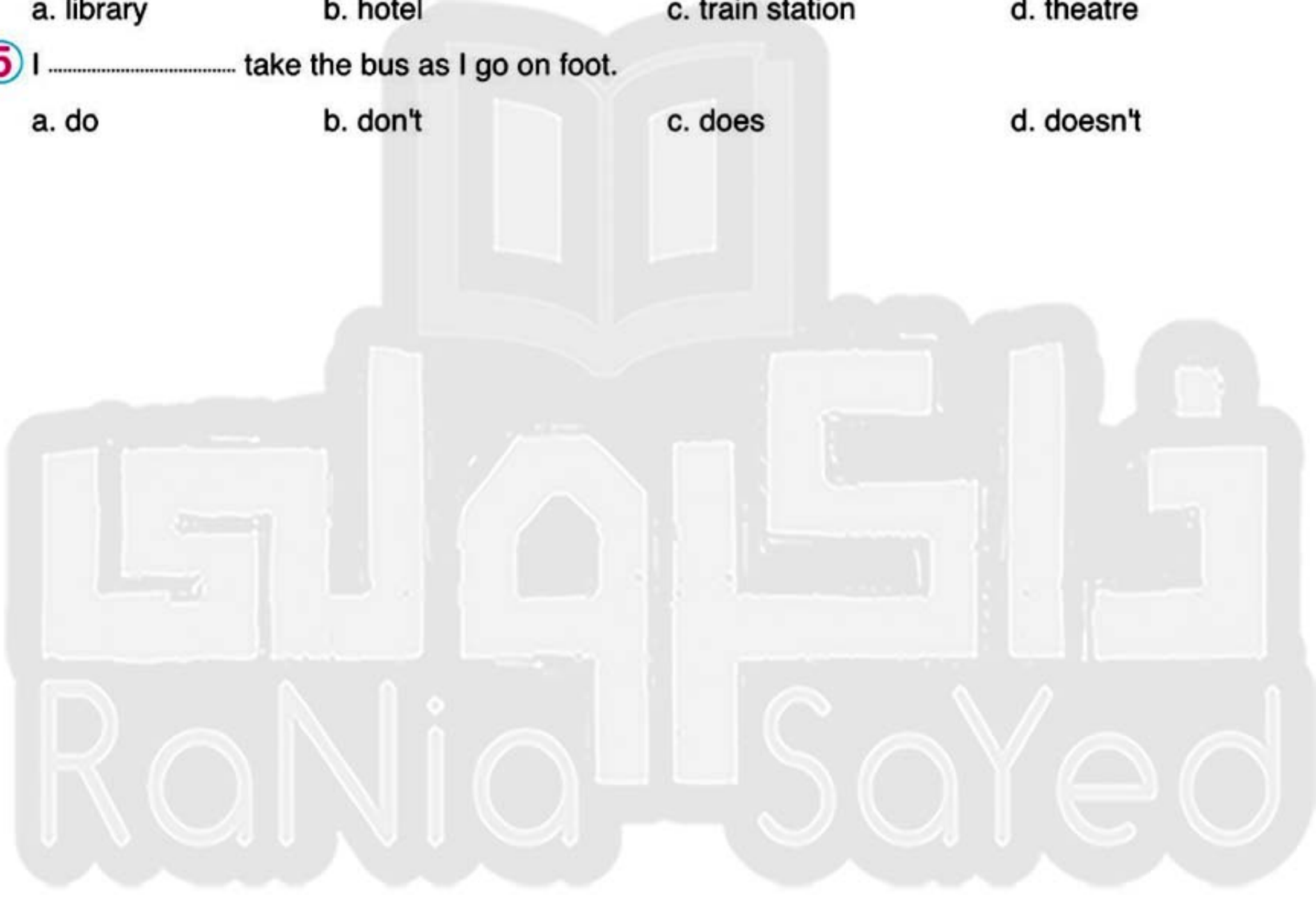




Fifth: English

Choose the correct answer from a, b, c or d:

- 1 The actor autographs.
a. drove b. wore c. signed d. talked
- 2 I going to wash my hair tomorrow.
a. do b. is c. am d. are
- 3 She had two of coffee.
a. plates b. cups c. slices d. pieces
- 4 A: "Where can you borrow books?" B: "From the"
a. library b. hotel c. train station d. theatre
- 5 I take the bus as I go on foot.
a. do b. don't c. does d. doesn't



مراجعة ليلة الامتحان



تابع جديد زاكروولي على موقعنا
<https://www.zakrooly.com>



مع تمنيات موقع ذاكروولي التعليمي لكل الطلاب بالنجاح والتوفيق

سلاح التلميذ

موقع ذاكروولي التعليمي

الصف السادس الابتدائي

مراجعة ليلة الامتحان (الصف السادس الابتدائي)

النموذج ٦

أولاً : اللغة العربية

١ من موضوع « زيارة ومفاجأة » :

« في صباح يوم الخميس ، توجهت مريم في صحبة والديها ومعها بعض الهدايا إلى المستشفى ، الذي وجدته غايةً في الجمال والنظام . »
اختر الإجابة الصحيحة مما بين القوسين :

- ① مرادف (غاية) : (مبتدأ - منتهى - منتصف)
② مضاد (النظام) : (التوسط - الاعتدال - الفوضى)
③ (الذي) : (اسم إشارة - اسم موصول - ضمير)
④ (مريم) مرفوعة لأنها : (فاعل - مفعول به - مبتدأ)

٢ من نص « الطماع والدجاجة » :

اختر الإجابة الصحيحة مما بين القوسين :

- ونظن يوماً أن فيها كنزاً وأنه يزداد منه عزاً
وقبض الدجاجة المسكين وكان في يمينه سكين
① جمع (سكين) : (مساكن - سكاكين - سكون)
② مضاد (يمينه) : (أسفله - شماله - تحته)
③ (أن فيها كنزاً) أسلوب مؤكد بـ : (أن - قد - تكرر)
④ (وأنه يزداد منه عزاً) خبر أن : (مفرد - جملة فعلية - شبه جملة)

٣ من قصة « على مبارك » :

اختر الإجابة الصحيحة مما بين القوسين :

- ① كانت مفروشات مدرسة قصر العيني من : (السجاد - حصر الحلفا - القطن والحريز)
② عندما تعرف على مبارك على تلاميذ منية العز : (سخرؤا منه - ابتعدوا عنه - أعجبوا به)

ثانيًا: الرياضيات

اختر الإجابة الصحيحة مما بين القوسين :

- ١ إذا كانت النسبة بين بعدى مستطيل ٣ : ٤ وكان محيطه ١٤٠ سم ، فإن مساحته = سم^٢ .
(٤٠٦١٢٠٠٦٧٠٦٣٠)
- ب مركز المجموعة التي بدايتها ٤ ونهايتها ١٠ هو
(١٤٦١٢٦٨٦٧)
- ج النسبة بين ٤ أمتار : ٣٥٠ سم =
(٥ : ٤٦٨ : ٧٦٧ : ٨٦٣ : ٤)
- د مكعب مجموع أطوال أحرفه ٤٨ سم ، فإن حجمه سم^٣ .
(٦٤٦١٦٦١٢٦٤)
- هـ ١,٥ لتر + ٥٠٠ سم^٣ = لتر .
(٥٦٤٦٣٦٢)
- و إذا كان طول أحمد = $\frac{٢}{٣}$ طول والده ، وكان طول أحمد ١٢٠ سم فإن طول والده = سم .
(١٨٠٦١٦٠٦١٤٠٦١٢٠)
- ز النسبة المئوية لعدد الناجحين بإحدى المدارس ٨٦ % ، فإن نسبة الراسبين = %
(٨٠٦١٤٦٣٦٦١٠٠)

ثالثًا: الدراسات الاجتماعية

اختر الإجابة الصحيحة مما بين القوسين :

- ١ تعد صناعة الأسمدة والأدوية من الصناعات : (الكيماوية - الهندسية - المعدنية - الغذائية)
- ب تعد من أبرز قناطر وادي النيل : (قناطر أدفينا - القناطر الخيرية - قناطر إسنا - قناطر زفتى)
- ج فشلت حملة نابليون على الشام في اقتحام مدينة : (عسقلان - يافا - العريش - عكا)
- د قائد الجيوش المملوكية في معركة الريدانية :
(طومان باي - قنصوة الغوري - سليم الأول - محمد الثاني)

رابعًا: العلوم

اختر الإجابة الصحيحة مما بين القوسين :

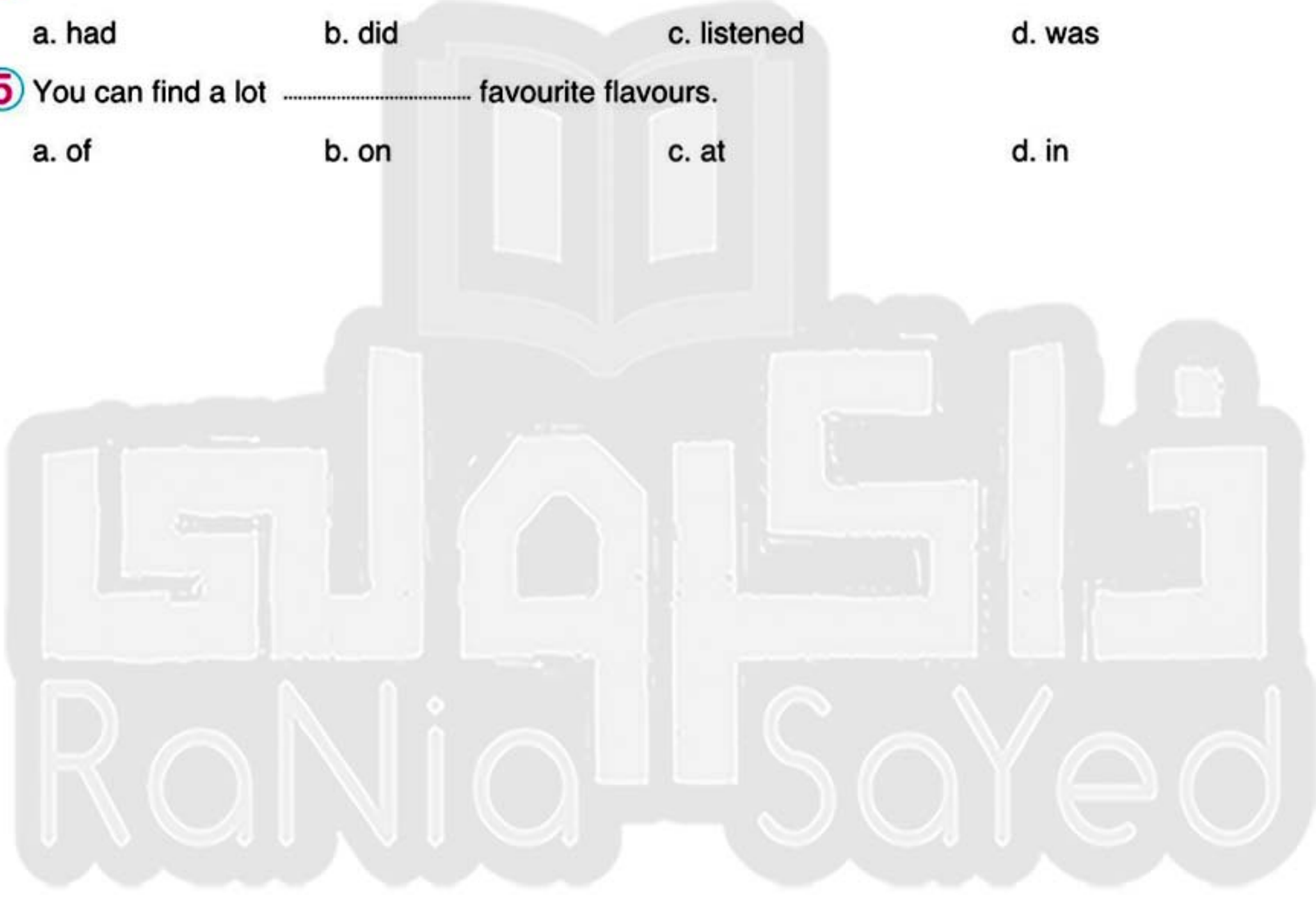
- ١ أي مما يلي من مكونات الجهاز العصبي الطرفي ؟
(الأعصاب الشوكية - النصفان الكرويان - الحبل الشوكي - النخاع المستطيل)
- ب يُستخدم كعامل حفّاز في تجربة تحضير غاز الأكسجين .
(أكسيد الكالسيوم - ثاني أكسيد المنجنيز - هيدروكسيد الكالسيوم - بيكرونات الصوديوم)
- ج جسم كتلته على سطح الأرض ٢٠ كجم يكون وزنه على سطح الأرض نيوتن .
(٠,٢ - ٢٠٠ - ١٢٠ - ٢٠)
- د من المواد جيدة التوصيل للحرارة :
(الحديد - الخشب - الزجاج - البلاستيك)



Fifth: English

Choose the correct answer from a, b, c or d:

- 1 We didn't an accident.
a. drive b. have c. put d. sign
- 2 I sliced fruit by
a. myself b. herself c. himself d. itself
- 3 I had one of roast beef.
a. slice b. bottle c. bowl d. glasses
- 4 She to music.
a. had b. did c. listened d. was
- 5 You can find a lot favourite flavours.
a. of b. on c. at d. in



مراجعة ليلة الامتحان



تابع جديد زاكروولي على موقعنا
<https://www.zakrooly.com>



مع تمنيات موقع ذاكرولي التعليمي لكل الطلاب بالنجاح والتوفيق

سلاح التلميذ

موقع ذاكرولي التعليمي

الصف السادس الابتدائي